



I Olimpíada Brasileira de Educação
Financeira

Nível 1 | Fase 1

Aluno (a):

Escola:

Série:

Turno:

INSTRUÇÕES:

- ✓ A duração desta prova é de 3 horas.
- ✓ As questões possuem alternativas de resposta (a, b, c, d, e) e somente uma delas está correta.
- ✓ O caderno contém 10 questões, a resposta certa deve ser marcada no gabarito com a bolinha totalmente preenchida. Dessa forma: ●
- ✓ Leia com atenção a sua prova.
- ✓ Boa Sorte!



Educação Financeira
para toda a vida

1. A mãe de Joana foi a feira para comprar 16 bananas, cada uma custava 1,30. Chegando lá o Márcio, vendedor de bananas, só tinha uma dúzia de bananas para vender e a mãe de Joana comprou todas, quanto custou essa compra?

- a) R\$ 15,60
- b) R\$ 20,80
- c) R\$ 17,50
- d) R\$ 11,30
- e) R\$ 20,30

2. Manoel precisa comprar um lápis para continuar suas atividades na escola, o lápis custa R\$ 1,50. Quantas moedas de R\$ 0,25 são necessárias para o garoto comprar seu material?

- a) Manoel precisará de 6 moedas.
- b) Manoel precisará de 9 moedas.
- c) Manoel precisará de 4 moedas
- d) Manoel precisará de 5 moedas.
- e) Manoel precisará de 3 moedas.

3. Fábio pede ao seu filho Júnior para ir no mercado comprar algumas frutas, sendo: 12 bananas e 8 laranjas. O pai deu 20 reais para comprar e pediu que o filho voltasse com o troco. Júnior comprou o que foi pedido e voltou com 2 reais de troco, sabendo que as 8 laranjas custaram 6 reais, quanto custou cada laranja e cada banana?





- a) Cada laranja custou R\$ 0,25 e cada banana custou R\$ 1,50.
- b) Cada laranja custou R\$ 0,55 e cada banana custou R\$1,25.
- c) Cada laranja custou R\$0,75 e cada banana custou R\$ 1,00.
- d) Cada laranja custou R\$ 0,85 e cada banana custou R\$ 1,00.
- e) Cada laranja custou R\$ 1,00 e cada banana custou R\$ 0,95.

4. Marcela, tinha quadrigêmeos, Marcos, Matheus, Murilo e Marcelo, no aniversário de 12 anos dos meninos o avô deles deu de presente um envelope que tinha essa quantidade de dinheiro representada nas seguintes notas abaixo. O avô deixou no envelope o recado que o dinheiro deveria ser dividido de forma igual entre os quatro irmãos, sendo assim, quanto cada um recebeu?



- a) R\$ 87,00
- b) R\$ 75,85
- c) R\$ 70,00
- d) R\$ 65,25
- e) R\$ 46,75

5. Classifique os gastos nas figuras abaixo como: (1) para Gastos Domésticos e (2) para Gastos Pessoais.

A () 	C () 
B () 	D () 

- a) A(1); B(1); C(2); D(2)
- b) A(2); B(1); C(1); D(2)
- c) A(2); B(1); C(2); D(1)
- d) A(1); B(2); C(1); D(1)
- e) A(2); B(2); C(1); D(2)

6. As notas do real possuem animais em suas características, quais os nomes respectivamente dos animais das notas abaixo:



- Arara – macaco prego – leão – tartaruga
- Pássaro vermelho – mico leão dourado – leão – peixe
- Arara – mico leão dourado – onça pintada – garoupa verdadeira
- Pássaro vermelho – macaco prego – onça pintada – peixe
- Arara – mico leão dourado – leão – garoupa verdadeira

7. Bia tem 6 anos, todos os dias ela vai para a escola de manhã e ao voltar para casa, almoça com sua mãe. Um dia após o almoço viu que sua mãe estava organizando a carteira e decidiu ir ajudar, mas tinha uma condição, ela teria que organizar as notas de real em ordem decrescente. Ajude Bia a colocar na ordem certa as notas que a mãe dela pediu. Na carteira continha as seguintes quantidades:

- (1) notas de R\$ 100,00
- (2) notas de R\$ 5,00
- (3) notas de R\$ 50,00
- (4) notas de R\$ 2,00
- (5) notas de 20,00



Marque a alternativa que tenha a sequência correta:

- (2) (3) (4) (1) (5)
- (5) (2) (1) (3) (4)
- (1) (3) (5) (2) (4)
- (1) (5) (4) (2) (3)
- (3) (2) (5) (4) (1)

8. João tem um filho de 5 anos que se chama Cayo. Ele está entregando a mesada ao filho. Conhecendo-se os conceitos de receitas, despesas, lucro e prejuízo, assinale a alternativa correta.




Fonte: <https://falamaissobreisso.wordpress.com/2011/04/19>

- João (pai) está tendo uma Receita e Cayo (filho) está tendo um Lucro.
- João (pai) está tendo uma Despesa e Cayo (filho) está tendo uma Receita.
- João (pai) está tendo uma Despesa e Cayo (filho) está tendo uma Despesa.
- João (pai) está tendo uma Receita e Cayo (filho) está tendo uma Receita.
- João (pai) está tendo um Prejuízo e Cayo (filho) está tendo uma Despesa.

9. Alex tem guardado 13 notas de R\$ 20,00, 26 notas de R\$ 50,00, 18 notas de R\$ 100,00 e 32 moedas de R\$ 0,50. Portanto, Alex tem:

- R\$ 3.116,00
- R\$ 1.816,50
- R\$ 3.526,00
- R\$ 4.576,00
- R\$ 3.376,00

10.



Fonte: <https://basecredcard.com.br/site/institucional/45/>

Sobre os conhecimentos acerca de Orçamento doméstico, podemos afirmar que nesta imagem acima temos a característica de uma família

- a) Não educada financeiramente.
- b) Um grupo de pessoas.
- c) Uma família que têm conhecimentos sobre educação financeira, onde seus filhos já estão aprendendo poupar e que os pais fazem o orçamento juntamente com os filhos.
- d) Agrupamento, Despesa Fixa, Organização e Metas.
- e) Avaliação, Planejamento, Organização e Registro.

GABARITO

GABARITO – NÍVEL 1 – FASE 1

- 01 a b c d e
- 02 a b c d e
- 03 a b c d e
- 04 a b c d e
- 05 a b c d e
- 06 a b c d e
- 07 a b c d e
- 08 a b c d e
- 09 a b c d e
- 10 a b c d e